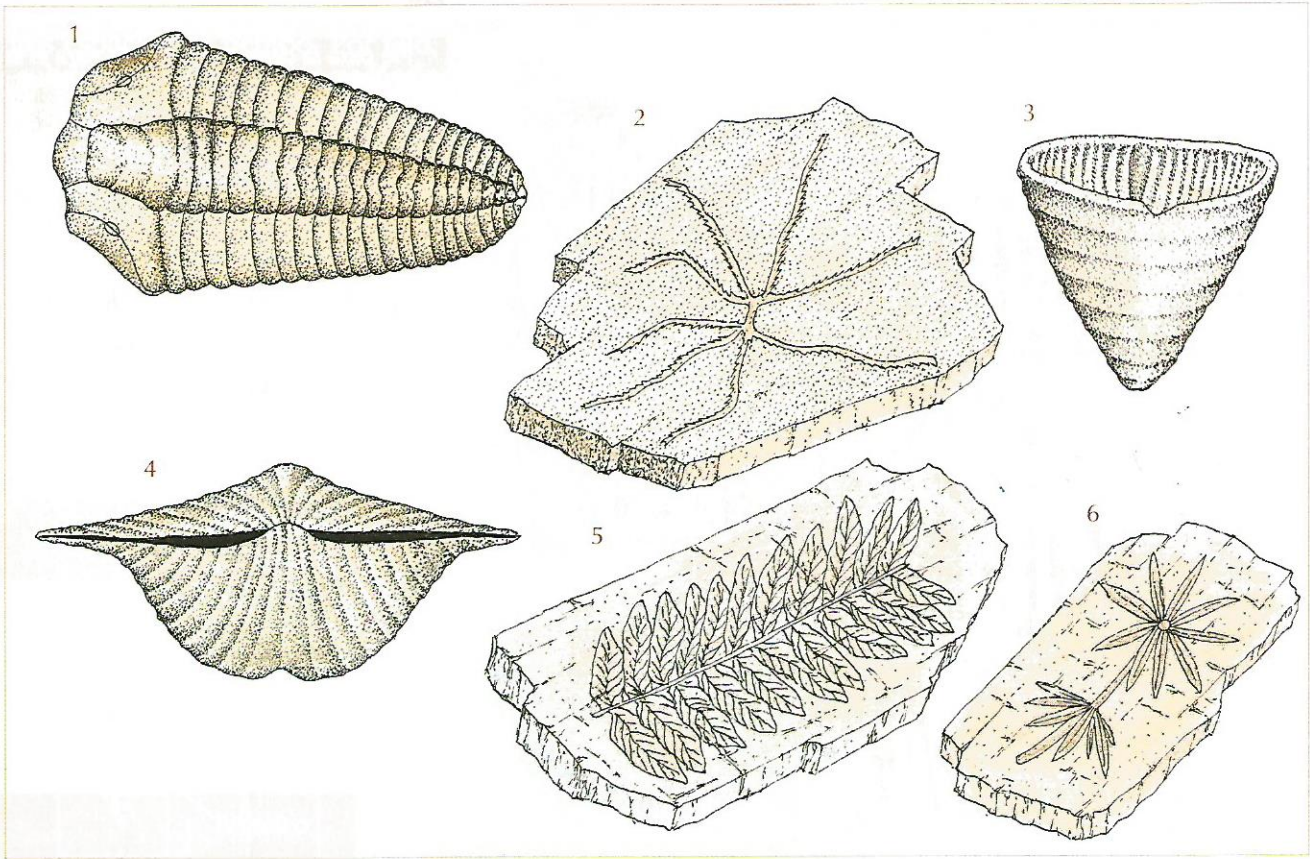


Actividad 7: Estudio de fósiles característicos de la era primaria

1. Observa estos dibujos de fósiles característicos de la era primaria y, después de consultar la *Guía de fósiles* incluida en la *Documentación* de esta unidad, página 233, identifica cada uno de ellos.



2. Elabora una ficha paleontológica de cada uno de estos fósiles, completando los datos que se indican en la siguiente «ficha modelo». Consulta para ello la *Guía de fósiles* de la página 233 y realiza, en el recuadro de la derecha de la ficha, un dibujo del fósil estudiado. Señala, sobre la «Escala de acontecimientos paleontológicos», la época en que vivió.

Tipo: .....	
Clase: .....	
Género: .....	
Era: .....	
Período: .....	
Hábitat: .....	
Edad aproximada: .....	

600  
millones  
de años

500

400

300

200

100

0

Primeros  
vertebrados

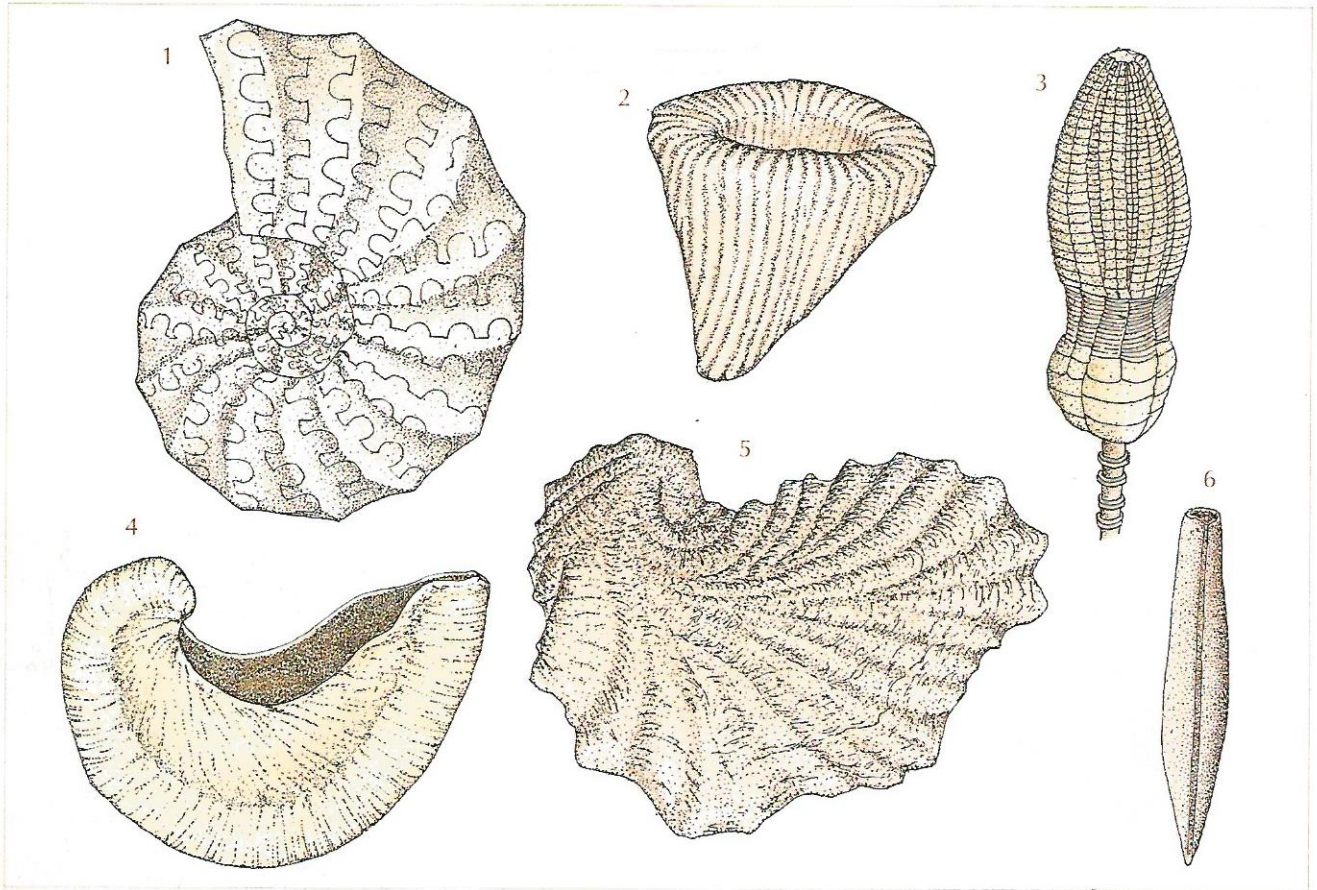
Época de los  
Grandes Reptiles

Aparición  
del Hombre



## Actividad 8: Estudio de fósiles característicos de la era secundaria

1. Observa estos dibujos de fósiles característicos de la era secundaria y, después de consultar la *Guía de fósiles* incluida en la *Documentación* de esta unidad, página 233, identifica cada uno de ellos.




2. Elabora una ficha paleontológica de cada uno de estos fósiles, completando los datos que se indican en la siguiente «ficha modelo». Consulta para ello la *Guía fósiles* de la página 233, y realiza, en el recuadro de la derecha de la ficha, un dibujo del fósil estudiado. Señala, sobre la «Escala de acontecimientos paleontológicos», la época en que vivió.

Tipo: ..... Clase: ..... Género: .....		
Era: ..... Período: ..... Hábitat: ..... Edad aproximada: .....		



Actividad 9: Estudio de fósiles característicos de la era terciaria

1. Observa estos dibujos de fósiles característicos de la era terciaria y, después de consultar la *Guía de fósiles* incluida en la *Documentación* de esta unidad, página 233, identifica cada uno de ellos.



2. Elabora una ficha paleontológica de cada uno de estos fósiles, completando los datos que se indican en la siguiente «ficha modelo». Consulta para ello la *Guía de fósiles* y realiza, en el recuadro de la derecha de la ficha, un dibujo del fósil estudiado. Señala, sobre la «Escala de acontecimientos paleontológicos», la época en que vivió.

Tipo: .....	
Clase: .....	
Género: .....	
Era: .....	
Período: .....	
Hábitat: .....	
Edad aproximada: .....	

600  
millones  
de años

500

400

300

200

100

0

Primeros  
vertebrados

Época de los  
Grandes Reptiles

Aparición  
del Hombre